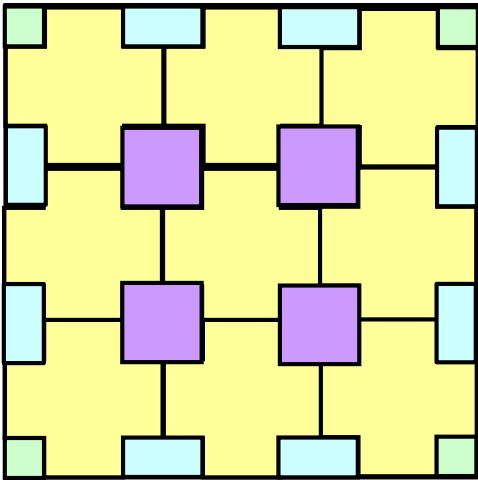






IL PAVIMENTO



QUANTE?				
	9	4	4	8

IL LABIRINTO

2 - 4 - 6 - 8 - 10 - 12 - 14 - 16 - 18 - 20 - 22
 - 24 - 26 - 28 - 30 - 32 - 34 - 36 - 38 - 40
 - 42 - 46 - 48 - 50 - 52 - 54 - 56 - 58 - 60
 - 62 - 64

QUADRATO MAGICO

4	3	8
9	5	1
2	7	6

6	7	2
1	5	9
8	3	4

6	1	8
7	5	3
2	9	4

4	9	2
3	5	7
8	1	6

(soluzione in esempio)

2	9	4
7	5	3
6	1	8

8	1	6
3	5	7
4	9	2

2	7	6
9	5	1
4	3	8

8	3	4
1	5	9
6	7	2

 OPERAZIONI IN GRIGLIA

6	:	2	=	3
+		*		
1	+	4	=	5
=		=		
7		8		